


Round 4 文字も数字もない

満点：550 点

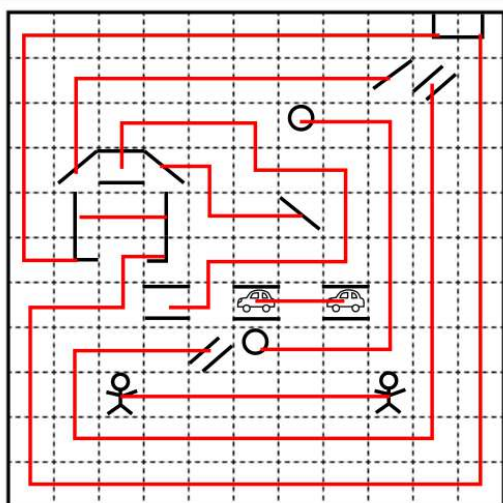
最高点：670 点

平均点：297.8 点



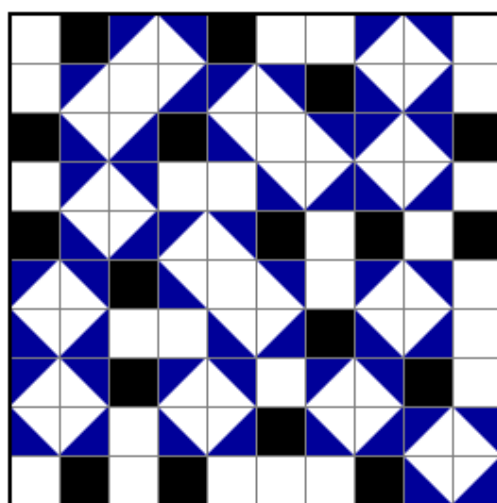
1. ナンバーリンク

① 20 点 作●panista



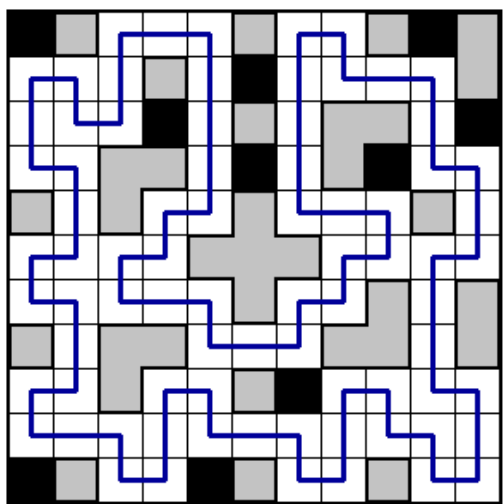
2. シャカシャカ

① 10 点 作●panista



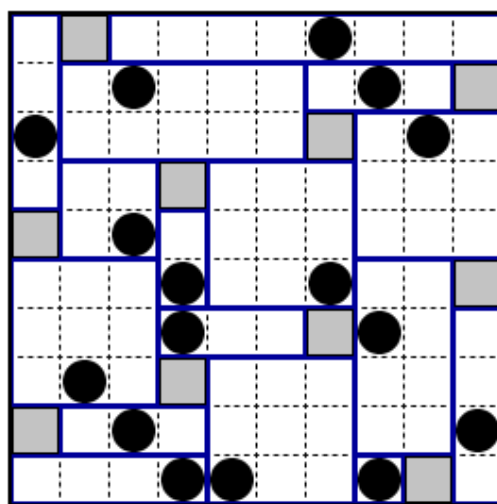
3. ヤジリン

① 20 点 作●panista




4. 四角に切れ

① 20 点 作●panista




5. ぬりかべ

① 25点 作●panista



6. ぬりめいず

① 30点 作●初月葉桜



7. 波及効果

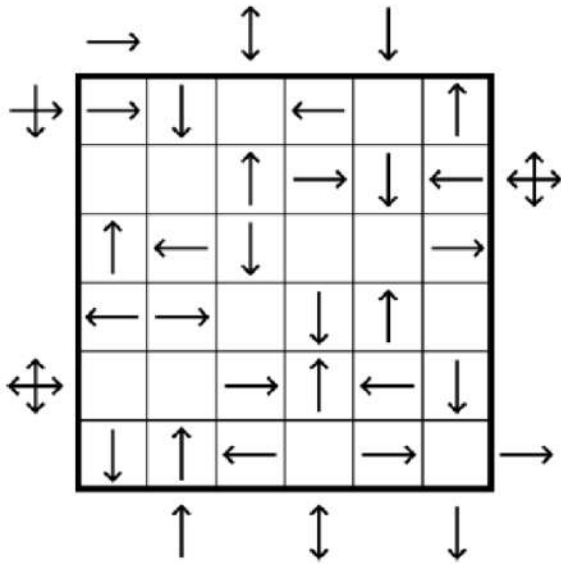
① 45点 作●タイガーアイ

1	2	4	3	2	5	1	2
2	3	1	2	1	4	3	5
3	1	2	1	3	1	2	4
1	2	3	4	1	2	1	3
2	1	5	2	4	3	6	1
1	3	4	1	2	1	3	2
4	2	1	3	1	5	2	1
3	4	2	5	3	2	1	4

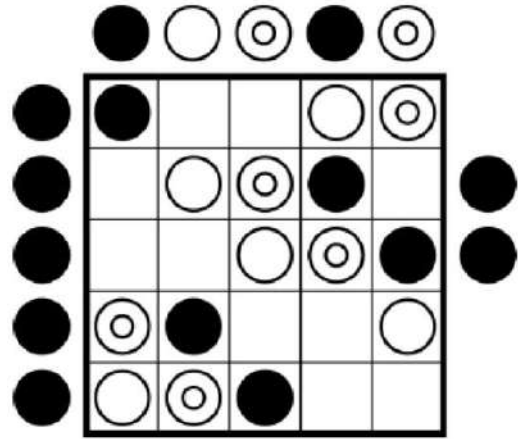
8. インストラクションレス 1

各行各列に指定された図形をひとつずつ入れます。盤面の外側にある記号は、その行(列)で最も手前にある連続したカタマリに含まれる記号をすべて重ね合わせた図形を表します。

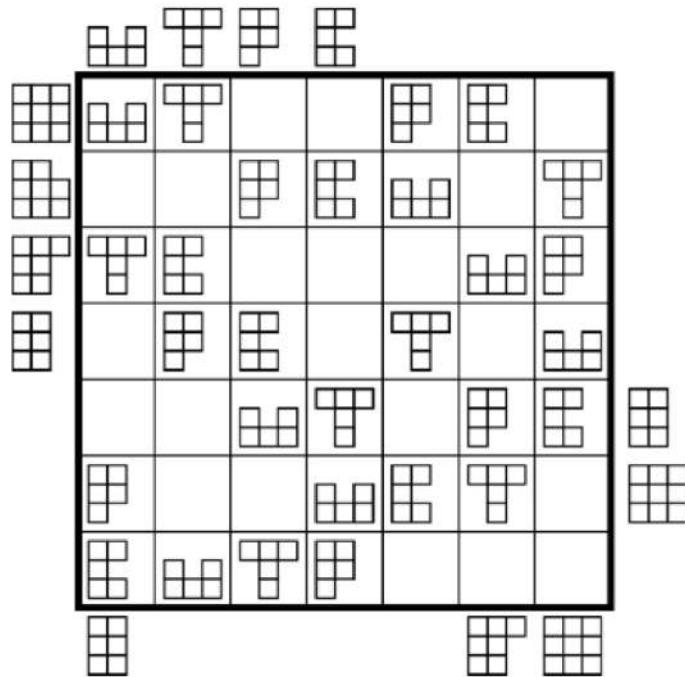
① 25点 作●panista



② 40点 作●panista



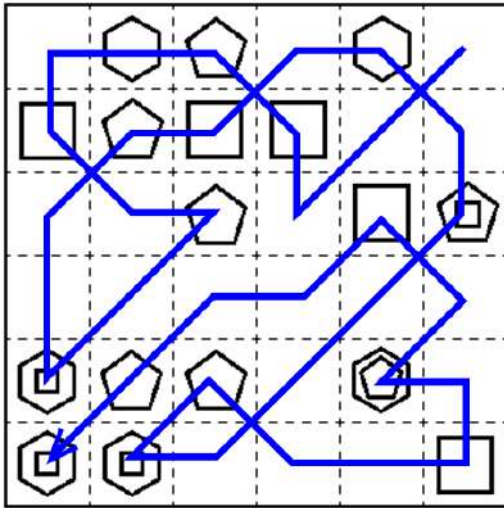
③ 70点 作●panista



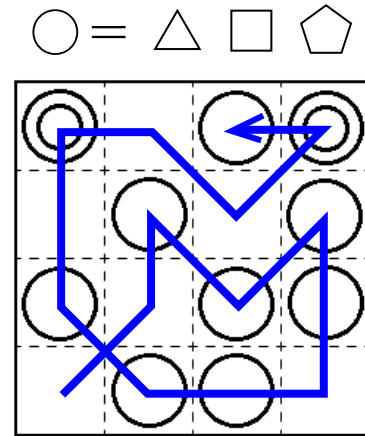
9. インストラクションレス 2

タテヨコナナメに移動して、すべてのマスを一歩ずつ通るように線を引きます。k角形があるマスは、kの倍数番目に通ります。(例：四角形のあるマスは4,8,12…番目に通ります)

① 60点 作●SP1



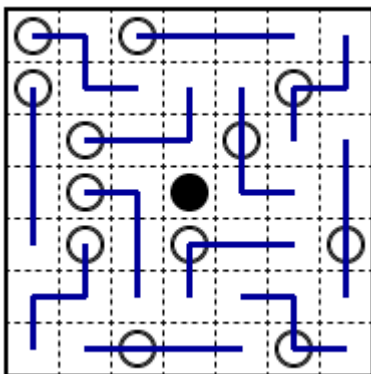
② 40点 作●SP1



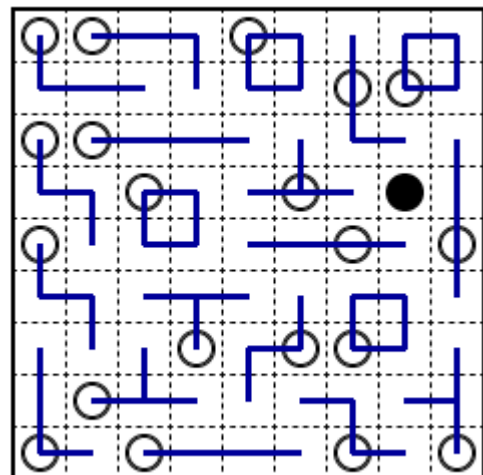
10. インストラクションレス 3

指定されたテトロミノを4つずつ重ならないように配置してください。テトロミノは、回転や反転してもかまいません。黒丸のあるマスにテトロミノを置くことはできません。すべてのテトロミノは、異なる位置に白丸を1つずつ含みます。

① 30点 作●しもりん



② 70点 作●しもりん



11. インストラクションレス4

黒丸を1つ置いて、問題冊子にある他のパズルの盤面を完成させてください。

例題はインストラクションレス3の例題を使用しました。本問は表紙(1ページ目)にある UTPC2017 のロゴにある盤面(ましゅ)を使用しました。

① 45点 作●しもりん

